

**МУНИЦИПАЛЬНЫЙ ЭТАП  
ВСЕРОССИЙСКОЙ ОЛИМПИАДЫ ШКОЛЬНИКОВ ПО ОБЖ  
2023/24 г.  
9 класс**

**Задания теоретического этапа**

***Уважаемый участник олимпиады!***

Вам предстоит выполнить теоретические (письменные) и тестовые задания. Время выполнения заданий теоретического тура — 180 минут.

*Выполнение теоретических (письменных) заданий целесообразно организовать следующим образом:*

- не спеша, внимательно прочитайте задание и определите наиболее верный и полный ответ;
- отвечая на теоретический вопрос, обдумайте и сформулируйте конкретный ответ только на поставленный вопрос;
- если вы отвечаете на задание, связанное с заполнением таблицы или схемы, не старайтесь детализировать информацию, вписывайте только те сведения или данные, которые указаны в вопросе;
- особое внимание обратите на задания, при выполнении которых требуется выразить ваше мнение с учетом анализа ситуации или поставленной проблемы. Внимательно и вдумчиво определите смысл вопроса и логику ответа (последовательность и точность изложения). Отвечая на вопрос, предлагайте свой вариант решения проблемы, при этом ответ должен быть кратким, но содержать необходимую информацию;
- после выполнения всех предложенных заданий еще раз удостоверьтесь в правильности выбранных вами ответов и решений.

*Выполнение тестовых заданий целесообразно организовать следующим образом:*

- не спеша, внимательно прочитайте тестовое задание;
- определите, какой из предложенных вариантов ответа наиболее верный и полный;
- напишите букву, соответствующую выбранному вами ответу;
- продолжайте таким образом работу до завершения выполнения тестовых заданий;
- после выполнения всех предложенных заданий еще раз удостоверьтесь в правильности ваших ответов;

- если потребуется корректировка выбранного вами варианта ответа, то неправильный вариант ответа зачеркните крестиком и рядом напишите новый.

Предупреждаем вас, что:

- при оценке тестовых заданий, где необходимо определить один правильный ответ, 0 баллов выставляется за неверный ответ и в случае, если участником отмечены несколько ответов (в том числе правильный) или же все ответы;
- при оценке тестовых заданий, где необходимо определить все правильные ответы, 0 баллов выставляется, если участником отмечены неверные ответы, большее количество ответов, чем предусмотрено в задании (в том числе правильные ответы), или же все ответы.

Задание теоретического тура считается выполненным, если вы вовремя сдаете его членам жюри. **Максимальная оценка — 150 баллов.**

***Желаем вам успеха!***

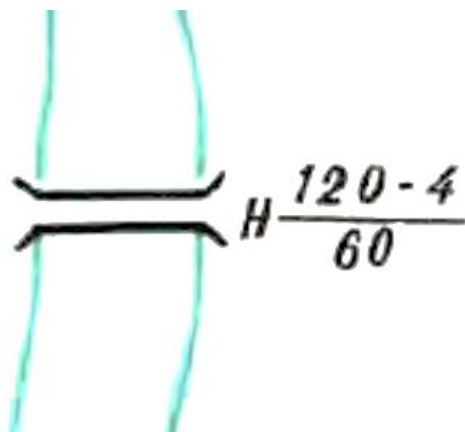
## Модуль 1

**Задание 1.** В соответствии с Приказом Министерства здравоохранения № 477н «Об утверждении перечня состояний, при которых оказывается первая помощь», перечислите все неотложные состояния.

1. \_\_\_\_\_
2. \_\_\_\_\_
3. \_\_\_\_\_
4. \_\_\_\_\_
5. \_\_\_\_\_
6. \_\_\_\_\_
7. \_\_\_\_\_
8. \_\_\_\_\_

**Максимум за задание — 24 балла.**

**Задание 2.** Что за гидрографический знак представлен на карте и как расшифровываются обозначения?



Знак: \_\_\_\_\_

1. H — \_\_\_\_\_




2. 120 — \_\_\_\_\_

3. 4 — \_\_\_\_\_

4. 60 — \_\_\_\_\_

**Максимум за задание — 15 баллов.**

**Задание 3.** Что значат данные сигналы при перемещении грузов кранами?

Сигнал	Значение сигнала
	
	
	

**Максимум за задание — 12 баллов.**

**Задание 4.** Как называются эти знаки ПДД?

Знак	Название
	
	
	
	
	


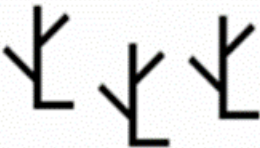

Максимум за задание — 25 баллов.

**Задание 5.** Перечислите опасные факторы пожара, воздействующие на людей и имущество.

1. \_\_\_\_\_
2. \_\_\_\_\_
3. \_\_\_\_\_
4. \_\_\_\_\_
5. \_\_\_\_\_
6. \_\_\_\_\_


**Максимум за задание — 12 баллов.**

**Задание 6.** Как называются эти топографические знаки, используемые для обозначения деревьев?

**Максимум за задание — 18 баллов.**

**Модуль 2.**
**Тестовые задания**

№ п/п	Тестовые задания	Макс. балл
<b>Определите один правильный ответ</b>		
1.	<b>Какой костёр представлен на данном изображении?</b> а) Звёздный б) Шалаш в) Нодья г) Колодец	 2
2.	<b>Как называется этот предупреждающий знак безопасности?</b> а) Опасно. Лазерное излучение б) Внимание. Магнитное поле в) Внимание. Электромагнитное поле г) Внимание. Опасность (прочие опасности)	 2
3.	<b>Какой противогаз изображён на рисунке?</b> а) ГП-4 б) ГП-5 в) ГП-7 г) ПДФ-2Ш	 2
4.	<b>Как называется процесс уничтожения грызунов?</b> а) Дератизация б) Дегазация в) Демеркуризация г) Дезинсекция	 2
5.	<b>Как расшифровывается аббревиатура «АСР» в структурах МЧС?</b> а) Автоматическая система регулирования б) Аварийно-спасательные работы в) Аварийный сигнальный регламент г) Антисейсмическое решение	 2

6.	<b>Кровоостанавливающий жгут в летнее (тёплое) время может быть наложен на:</b> а) 30 минут б) 1 час в) 2 часа г) 2,5 часа	2
7.	<b>Что такое лахар?</b> а) Грязевой поток б) Каменная река в) Грязекаменной поток на склонах гор (смесь воды, мелкозёма, гравия) г) Грязевой поток на склонах вулканов (смесь воды, пепла, пемзы)	2
8.	<b>Как называется фонтан пара из отверстия на склоне вулкана?</b> а) Гейзер б) Лапили в) Мафет г) Фумарол	2
9.	<b>К какому классу пожаров относится горение металлов?</b> а) Класс А б) Класс В в) Класс С г) Класс D	2
10.	<b>Тайное хищение чужого имущества — это...</b> а) Грабёж б) Кража в) Разбой г) Вымогательство	2
11.	<b>При нехватке этого витамина развивается болезнь куриная слепота.</b> а) РР (никотиновая кислота) б) С (аскорбиновая кислота) в) В2 (рибофлавин) г) А (ретинол)	2
12.	<b>Какого звена нет в эпидемической цепи?</b> а) Источник инфекции б) Место обитания в) Восприимчивый к инфекции организм г) Пути передачи	2



13.	<b>Когда празднуется День народного единства?</b> а) 4 Ноября б) 4 Декабря в) 1 Мая г) 29 Января	2
14.	<b>С помощью какого прибора измеряют суммарную дозу ионизирующего излучения, полученную человеком за определённое время?</b> а) Барометр б) Дозиметр в) Манометр г) Метеометр	2
15.	<b>Сколько существует степеней ожогов?</b> а) 3 степени б) 5 степеней в) 2 степени г) 4 степени	2
16.	<b>Время прибытия первого подразделения к месту вызова в городских населенных пунктах не должно превышать...</b> а) 5 минут б) 10 минут в) 15 минут г) 20 минут	2
17.	<b>Хлор — это...</b> а) Зеленовато-жёлтый газ с резким удушливым запахом б) Серебристо-жидкий металл тяжелее воздуха в) Газ от бесцветного до красно-бурого с удушливым запахом г) Бесцветный газ с запахом прелого сена или гнилых плодов	2
18.	<b>С помощью квартальных столбов можно ориентироваться в лесу. Куда указывает прямая линия между двумя маленькими числами?</b> а) На Север б) На Юг в) На Запад г) На Восток	2

19.	<b>Сколько существует классов АХОВ по степени опасности?</b> а) 2 класса б) 3 класса в) 4 класса г) 5 классов	2
<b>Определите все правильные ответы</b>		
20.	<b>Какие виды пожарной охраны есть в России?</b> а) Государственная противопожарная служба б) Добровольная пожарная охрана в) Экологическая пожарная охрана г) Частная пожарная охрана д) Морская пожарная охрана	6
	<b>Максимальное количество баллов</b>	<b>44</b>

**Примечание:**

- за каждый правильный ответ начисляется по 2 балла;
- при оценке заданий 0 баллов выставляется за отсутствие правильных ответов, а также если отмечено большее количество ответов, чем предусмотрено в ключе (в том числе правильные), или же все ответы.